


Can you make it through the multiple maze? Start on the shapes. From the diamond you will need to COUNT ON in **multiples of nine** and from the circle you will need to COUNT BACK in **multiples of nine**.

$9 \times 10 = 90$
 $90 \div 10 = 9$

34	54	13	18	24	28	30	33	41	26	44	55	60	73	84	19	23	43	24	51	54	63	72	81	90		96	67	34
26	31	90	22	67	56	62	61	73	34	42	54	63	72	81	80	55	67	5	40	45	43	70	78	92	15	88	2	53
23	13	82	34	29	45	54	63	65	85	40	45	62	74	90	88	26	34	32	35	36	27	18	20	37	12	43	55	66
36	87	92	10	27	36	52	72	81	90	88	36	38	10	9	18	27	36	34	61	60	11	9	10	88	67	44	23	31
65	88	90	9	18	20	70	69	79	9	18	27	28	12	13	17	19	45	43	63	72	81	90	92	78	18	4	15	59
9	80	81	11	12	17	22	66	75	11	17	28	67	80	81	72	63	54	58	54	57	80	95	94	67	53	17	10	60
14	73	72	70	29	19	8	89	37	12	43	55	78	65	90	74	60	52	44	45	46	9	90	81	79	55	45	30	12
23	61	63	65	27	18	9	90	88	67	44	23						66	38	36	27	18	70	72	63	54	56	34	35
67	53	54	45	36	20	80	81	78	18	4	15						50	14	34	26	16	68	64	58	45	36	35	76
8	7	6	43	35	46	70	72	67	53	17	10						19	20	10	20	25	32	44	57	23	27	18	20
	9	10	12	44	45	54	63	65	34	18	9						28	8	9	18	27	36	45	54	49	17	9	12
15	18	17	16	34	36	55	64	34	24	27	25						45	87	90	23	28	38	44	63	72	81	90	88
36	27	25	24	28	27	18	20	56	38	36	32	71	56	43	19	30	13	22	81	72	63	54	52	62	74	80	95	86
45	43	71	80	67	11	9	12	43	41	45	44	70	11	54	67	35	40	98	80	68	49	45	40	11	14	64	9	74
54	63	72	81	79	89	90	81	66	52	54	63	72	75	7	5	73	21	45	88	10	27	36	35	37	12	43	55	55
52	64	73	90	92	26	69	72	2	12	50	61	81	90	9	19	56	67	74	90	9	18	23	65	88	67	44	23	9
51	67	10	9	18	27	61	63	55	34	53	60	80	99	18	20	54	63	72	81	79	19	45	2	78	18	4	15	14
21	23	11	12	19	36	45	54	65	24	6	14	33	21	27	36	45	61	70	80	4	44	65	6	67	53	17	10	32
54	63	23	6	75	23	5	55	4	43	56	75	2	26	25	32	44	14	45	87	10	13	36	51	60	19	17	57	49


Can you make it through the multiple maze? Start on the shapes. From the diamond you will need to COUNT ON in **multiples of nine** and from the circle you will need to COUNT BACK in **multiples of nine**.

$9 \times 10 = 90$
 $90 \div 10 = 9$

34	54	13	18	24	28	30	33	41	26	44	55	60	73	84	19	23	43	24	51	54	63	72	81	90		96	67	34
26	31	90	22	67	56	62	61	73	34	42	54	63	72	81	80	55	67	5	40	45	43	70	78	92	15	88	2	53
23	13	82	34	29	45	54	63	65	85	40	45	62	74	90	88	26	34	32	35	36	27	18	20	37	12	43	55	66
36	87	92	10	27	36	52	72	81	90	88	36	38	10	9	18	27	36	34	61	60	11	9	10	88	67	44	23	31
65	88	90	9	18	20	70	69	79	9	18	27	28	12	13	17	19	45	43	63	72	81	90	92	78	18	4	15	59
9	80	81	11	12	17	22	66	75	11	17	28	67	80	81	72	63	54	58	54	57	80	95	94	67	53	17	10	60
14	73	72	70	29	19	8	89	37	12	43	55	78	65	90	74	60	52	44	45	46	9	90	81	79	55	45	30	12
23	61	63	65	27	18	9	90	88	67	44	23						66	38	36	27	18	70	72	63	54	56	34	35
67	53	54	45	36	20	80	81	78	18	4	15						50	14	34	26	16	68	64	58	45	36	35	76
8	7	6	43	35	46	70	72	67	53	17	10						19	20	10	20	25	32	44	57	23	27	18	20
	9	10	12	44	45	54	63	65	34	18	9						28	8	9	18	27	36	45	54	49	17	9	12
15	18	17	16	34	36	55	64	34	24	27	25						45	87	90	23	28	38	44	63	72	81	90	88
36	27	25	24	28	27	18	20	56	38	36	32	71	56	43	19	30	13	22	81	72	63	54	52	62	74	80	95	86
45	43	71	80	67	11	9	12	43	41	45	44	70	11	54	67	35	40	98	80	68	49	45	40	11	14	64	9	74
54	63	72	81	79	89	90	81	66	52	54	63	72	75	7	5	73	21	45	88	10	27	36	35	37	12	43	55	55
52	64	73	90	92	26	69	72	2	12	50	61	81	90	9	19	56	67	74	90	9	18	23	65	88	67	44	23	9
51	67	10	9	18	27	61	63	55	34	53	60	80	99	18	20	54	63	72	81	79	19	45	2	78	18	4	15	14
21	23	11	12	19	36	45	54	65	24	6	14	33	21	27	36	45	61	70	80	4	44	65	6	67	53	17	10	32
54	63	23	6	75	23	5	55	4	43	56	75	2	26	25	32	44	14	45	87	10	13	36	51	60	19	17	57	49


Can you make it through the multiple maze? Start on the shapes. From the diamond you will need to COUNT ON in **multiples of nine** and from the circle you will need to COUNT BACK in **multiples of nine**.

$9 \times 12 = 108$
 $108 \div 12 = 98$


26	43	35	18	9	◆	65	33	29	83	37	55	11	6	32	19	32	34	20	43	45	54	63	72	75	76	28	34	59	10	104	102	11					
31	38	36	27	28	32	80	92	94	95	76	55	61	75	80	17	84	21	18	27	36	52	62	81	82	110	110	55	67	19	122	12	18					
5	44	45	44	46	87	81	90	99	108	110	54	63	72	81	88	42	100	9	26	34	37	88	90	99	108	20	28	34	62	77	78	80					
20	53	54	55	80	70	72	71	98	9	53	45	50	69	90	92	12	109	108	99	98	90	93	92	100	9	18	27	60	64	72	81	79					
66	67	63	72	81	61	63	54	50	18	27	36	110	108	99	98	56	74	106	90	91	17	84	21	10	12	19	36	45	54	70	90	89					
81	65	62	70	90	92	43	45	30	20	25	32	10	9	11	34	43	56	80	81	80	88	42	100	11	62	30	38	44	55	100	99	100					
27	89	57	98	99	100	35	36	32	34	53	16	19	18	27	36	45	54	63	72	88	92	12	109	31	67	97	100	42	12	9	108	104					
65	86	53	106	108	9	18	27	25	26	66	71	20	21	26	28	55	65	61	78	80	98	56	74	10	110	100	101	35	27	18	19	20					
34	59	10	104	102	11	19	26	54	60	35	38	29	14											111	120	94	96	11	9	108	99	102	34	36	38	23	44
55	67	19	122	12	18	30	13	71	56	48	27	18	9											109	98	89	80	17	18	100	90	98	60	45	43	15	17
34	33	45	61	48	49	43	50	56	54	45	36	34	14											108	99	90	81	80	27	22	81	72	63	54	55	24	80
12	98	80	63	54	45	44	94	64	63	62	38	47	9											110	100	98	72	35	36	38	80	74	65	55	73	69	99
98	90	81	72	80	36	38	90	81	72	75	71	6	17											17	12	67	63	54	45	57	11	6	32	19	32	34	43
93	99	79	78	28	27	29	99	98	71	70	68	13	12											67	81	3	53	45	2	29	55	50	52	49	68	61	75
106	108	9	10	19	18	9	108	109	14	47	32	33	40	50	53	96	95	106	14	27	36	45	60	9	37	38	46	55	56	81	65	62					
104	109	18	27	28	20	10	110	112	98	30	28	36	45	54	71	97	99	108	9	18	35	54	41	33	35	36	45	54	59	27	89	57					
78	12	16	36	45	55	51	101	111	92	100	35	27	47	63	72	81	90	106	11	17	60	63	72	70	18	27	43	63	65	65	86	53					
15	23	14	30	54	44	46	70	80	88	102	110	18	20	64	73	80	98	97	40	34	69	61	81	76	9	12	70	72	76	34	59	10					
8	80	81	72	63	66	57	69	76	90	99	108	9	10	78	66	12	19	38	42	64	55	88	90	99	108	106	80	81	87	55	67	19					
56	92	90	74	62	67	60	63	72	81	84	110	11	37	91	17	84	21	10	12	68	62	91	94	98	110	100	99	90	78	34	33	45					
112	98	99	100	20	28	45	54	70	80	79	74	23	83	80	88	42	100	11	62	34	59	10	104	102	11	109	108	114	81	12	98	80					
100	106	108	9	18	27	36	55	57	84	82	56	93	20	88	92	12	109	31	67	55	67	19	122	12	18	110	●	112	109	42	35	67					

Can you make it through the multiple maze? Start on the shapes. From the diamond you will need to COUNT ON in **multiples of nine** and from the circle you will need to COUNT BACK in **multiples of nine**.


$9 \times 12 = 108$
 $108 \div 12 = 9$

26	43	35	18	9	◆	65	33	29	83	37	55	11	6	32	19	32	34	20	43	45	54	63	72	75	76	28	34	59	10	104	102	11
31	38	36	27	28	32	80	92	94	95	76	55	61	75	80	17	84	21	18	27	36	52	62	81	82	110	110	55	67	19	122	12	18
5	44	45	44	46	87	81	90	99	108	110	54	63	72	81	88	42	100	9	26	34	37	88	90	99	108	20	28	34	62	77	78	80
20	53	54	55	80	70	72	71	98	9	53	45	50	69	90	92	12	109	108	99	98	90	93	92	100	9	18	27	60	64	72	81	79
66	67	63	72	81	61	63	54	50	18	27	36	110	108	99	98	56	74	106	90	91	17	84	21	10	12	19	36	45	54	70	90	89
81	65	62	70	90	92	43	45	30	20	25	32	10	9	11	34	43	56	80	81	80	88	42	100	11	62	30	38	44	55	100	99	100
27	89	57	98	99	100	35	36	32	34	53	16	19	18	27	36	45	54	63	72	88	92	12	109	31	67	97	100	42	12	9	108	104
65	86	53	106	108	9	18	27	25	26	66	71	20	21	26	28	55	65	61	78	80	98	56	74	10	110	100	101	35	27	18	19	20
34	59	10	104	102	11	19	26	54	60	35	38	29	14					111	120	94	96	11	9	108	99	102	34	36	38	23	44	
55	67	19	122	12	18	30	13	71	56	48	27	18	9					109	98	89	80	17	18	100	90	98	60	45	43	15	17	
34	33	45	61	48	49	43	50	56	54	45	36	34	14					108	99	90	81	80	27	22	81	72	63	54	55	24	80	
12	98	80	63	54	45	44	94	64	63	62	38	47	9					110	100	98	72	35	36	38	80	74	65	55	73	69	99	
98	90	81	72	80	36	38	90	81	72	75	71	6	17					17	12	67	63	54	45	57	11	6	32	19	32	34	43	
93	99	79	78	28	27	29	99	98	71	70	68	13	12	67	81	3	53	45	2	29	55	50	52	49	68	61	75	80	17	84	21	22
106	108	9	10	19	18	9	108	109	14	47	32	33	40	50	53	96	95	106	14	27	36	45	60	9	37	38	46	55	56	81	65	62
104	109	18	27	28	20	10	110	112	98	30	28	36	45	54	71	97	99	108	9	18	35	54	41	33	35	36	45	54	59	27	89	57
78	12	16	36	45	55	51	101	111	92	100	35	27	47	63	72	81	90	106	11	17	60	63	72	70	18	27	43	63	65	65	86	53
15	23	14	30	54	44	46	70	80	88	102	110	18	20	64	73	80	98	97	40	34	69	61	81	76	9	12	70	72	76	34	59	10
8	80	81	72	63	66	57	69	76	90	99	108	9	10	78	66	12	19	38	42	64	55	88	90	99	108	106	80	81	87	55	67	19
56	92	90	74	62	67	60	63	72	81	84	110	11	37	91	17	84	21	10	12	68	62	91	94	98	110	100	99	90	78	34	33	45
112	98	99	100	20	28	45	54	70	80	79	74	23	83	80	88	42	100	11	62	34	59	10	104	102	11	109	108	114	81	12	98	80
100	106	108	9	18	27	36	55	57	84	82	56	93	20	88	92	12	109	31	67	55	67	19	122	12	18	110	●	112	109	42	35	67

Can you make it through the multiple maze? Start on the shapes. From the diamond you will need to COUNT ON in multiples of nine (up to 135!) and from the circle you will need to COUNT BACK in multiples of nine (from 135!). Good luck!

16	67	9	14	11	◆	9	6	12	34	97	113	51	80	95	114	45	19	12	10	9	18	27	36	45	54	63	73	74	100	110	14	12
12	11	128	122	120	20	18	7	18	56	96	53	56	85	97	110	119	123	65	132	135	136	28	37	46	55	64	81	90	99	108	98	34
10	9	135	126	116	28	27	10	44	121	22	42	97	90	99	108	117	104	45	128	126	128	90	81	72	63	67	54	94	101	117	126	56
17	18	118	117	108	110	36	45	46	14	23	64	80	81	88	100	126	101	19	121	117	108	99	84	68	54	45	36	27	112	118	135	72
24	27	30	120	99	97	55	54	48	56	76	70	69	72	70	132	135	9	18	20	119	106	100	82	66	55	43	33	18	6	18	9	12
32	36	45	50	90	81	72	63	60	3	56	43	54	63	62	133	134	14	27	36	45	40	42	112	108	117	126	135	9	12	27	28	33
51	52	54	56	95	86	70	65	37	64	39	36	45	61	60	67	50	20	28	35	54	63	65	104	99	100	128	130	17	33	36	39	88
66	65	63	72	73	11	67	68	64	25	43	27	29	30	34	45	67	25	87	55	69	72	81	96	90	88	48	56	63	54	45	43	57
34	86	67	81	90	99	108	110	55	10	9	18	20	22					120	70	71	90	86	81	72	70	69	72	75	46	110	34	
56	77	78	79	89	98	117	120	39	130	135	130	112	114					128	125	98	99	100	65	63	65	80	81	90	99	108	110	
23	35	6	22	134	135	126	130	14	120	126	117	115	129					135	126	117	108	111	55	54	45	57	76	84	100	117	122	
63	5	35	53	10	9	11	12	55	44	109	108	110	103					132	124	118	110	109	56	53	35	36	10	9	135	126	128	
1	65	75	67	21	18	27	36	45	54	57	99	100	108					130	120	116	104	105	22	29	27	24	16	18	131	123	43	
107	100	82	75	22	20	28	32	46	63	65	90	81	88	90	38	10	9	12	23	32	41	55	86	13	9	18	19	26	27	36	33	3
96	102	80	76	61	56	15	75	74	72	78	79	72	74	34	36	27	18	20	28	29	35	37	65	118	135	128	120	75	84	45	54	55
98	101	81	72	63	62	60	76	80	81	90	87	63	66	55	45	46	22	24	28	27	36	45	114	117	126	104	110	98	86	60	63	67
100	99	90	56	54	55	28	20	23	100	99	90	54	62	67	54	55	70	68	22	18	20	54	57	108	109	110	108	99	90	81	72	82
109	108	110	43	45	36	27	18	19	110	108	111	45	50	65	63	72	71	126	135	9	13	63	65	99	90	118	117	103	94	87	75	80
118	117	126	123	34	38	28	9	135	126	117	115	36	27	28	80	81	90	98	126	123	69	72	81	90	87	120	126	135	9	18	27	36
123	132	135	136	140	17	61	11	130	124	118	110	20	18	22	56	88	99	108	117	119	78	70	79	87	17	124	122	130	16	20	29	45
34	10	9	18	27	42	63	72	81	90	99	108	109	9	14	45	56	100	110	118	63	66	43	75	64	132	134	117	108	99	90	89	54
24	12	11	19	36	45	54	74	80	98	91	117	126	135	128	2	33	99	78	56	90	34	54	8	130	●	135	126	125	98	81	72	63

Can you make it through the multiple maze? Start on the shapes. From the diamond you will need to COUNT ON in multiples of nine (up to 135!) and from the circle you will need to COUNT BACK in multiples of nine (from 135!). Good luck!

16	67	9	14	11	◆	9	6	12	34	97	113	51	80	95	114	45	19	12	10	9	18	27	36	45	54	63	73	74	100	110	14	12
12	11	128	122	120	20	18	7	18	56	96	53	56	85	97	110	119	123	65	132	135	136	28	37	46	55	64	81	90	99	108	98	34
10	9	135	126	116	28	27	10	44	121	22	42	97	90	99	108	117	104	45	128	126	128	90	81	72	63	67	54	94	101	117	126	56
17	18	118	117	108	110	36	45	46	14	23	64	80	81	88	100	126	101	19	121	117	108	99	84	68	54	45	36	27	112	118	135	72
24	27	30	120	99	97	55	54	48	56	76	70	69	72	70	132	135	9	18	20	119	106	100	82	66	55	43	33	18	6	18	9	12
32	36	45	50	90	81	72	63	60	3	56	43	54	63	62	133	134	14	27	36	45	40	42	112	108	117	126	135	9	12	27	28	33
51	52	54	56	95	86	70	65	37	64	39	36	45	61	60	67	50	20	28	35	54	63	65	104	99	100	128	130	17	33	36	39	88
66	65	63	72	73	11	67	68	64	25	43	27	29	30	34	45	67	25	87	55	69	72	81	96	90	88	48	56	63	54	45	43	57
34	86	67	81	90	99	108	110	55	10	9	18	20	22					120	70	71	90	86	81	72	70	69	72	75	46	110	34	
56	77	78	79	89	98	117	120	39	130	135	130	112	114					128	125	98	99	100	65	63	65	80	81	90	99	108	110	
23	35	6	22	134	135	126	130	14	120	126	117	115	129					135	126	117	108	111	55	54	45	57	76	84	100	117	122	
63	5	35	53	10	9	11	12	55	44	109	108	110	103					132	124	118	110	109	56	53	35	36	10	9	135	126	128	
1	65	75	67	21	18	27	36	45	54	57	99	100	108					130	120	116	104	105	22	29	27	24	16	18	131	123	43	
107	100	82	75	22	20	28	32	46	63	65	90	81	88	90	38	10	9	12	23	32	41	55	86	13	9	18	19	26	27	36	33	3
96	102	80	76	61	56	15	75	74	72	78	79	72	74	34	36	27	18	20	28	29	35	37	65	118	135	128	120	75	84	45	54	55
98	101	81	72	63	62	60	76	80	81	90	87	63	66	55	45	46	22	24	28	27	36	45	114	117	126	104	110	98	86	60	63	67
100	99	90	56	54	55	28	20	23	100	99	90	54	62	67	54	55	70	68	22	18	20	54	57	108	109	110	108	99	90	81	72	82
109	108	110	43	45	36	27	18	19	110	108	111	45	50	65	63	72	71	126	135	9	13	63	65	99	90	118	117	103	94	87	75	80
118	117	126	123	34	38	28	9	135	126	117	115	36	27	28	80	81	90	98	126	123	69	72	81	90	87	120	126	135	9	18	27	36
123	132	135	136	140	17	61	11	130	124	118	110	20	18	22	56	88	99	108	117	119	78	70	79	87	17	124	122	130	16	20	29	45
34	10	9	18	27	42	63	72	81	90	99	108	109	9	14	45	56	100	110	118	63	66	43	75	64	132	134	117	108	99	90	89	54
24	12	11	19	36	45	54	74	80	98	91	117	126	135	128	2	33	99	78	56	90	34	54	8	130	●	135	126	125	98	81	72	63